

### 3. stretnutie: „Zo škôlky do školy“

Vážení rodičia, pripravili sme pre Vás novú úlohu, ktorá je určená pre Vášho predškolačka. Je nám ľúto, že Vaše dieťa, ktoré sa určite tešilo na zápis do „Veľkej“ školy, sa ho v tomto krízovom čase nebude môcť zúčastniť osobne. Posielame ďalšiu úlohu, ktorá vám môže ukázať ako ľahšie zvládnuť nástup do školy.

Sú to úlohy z oblasti **Matematických predstáv - „BYSTRÁ HLAVIČKA“**.





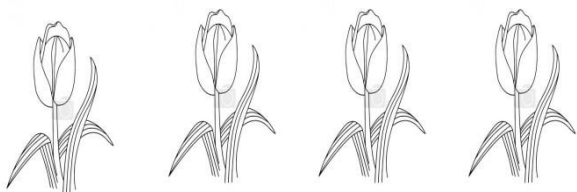


Keď budete s dieťaťom pracovať - dajte mu riešiť úlohu, pracujte s ním naraz maximálne 10 - 15 minút. Pred začiatkom vytvorte pokojnú a priateľskú atmosféru. Na stole, kde budete pracovať, by nemalo byť nič, čo by odvádzať pozornosť dieťaťa od práce - od riešenia úlohy. Vysvetlite dieťaťu zadanie a nechajte ho úlohu riešiť samostatne.

Želáme vám veľa trpezlivosti.

ZŠ Modranská ..... škola plná kreatívneho myslenia

# ČÍSLA A VZŤAHY

Spočítaj a nakresli toľko bodiek, koľko je ... (obrázky vymaľuj)

A large, empty rounded rectangle for drawing.A large, empty rounded rectangle for drawing.A large, empty rounded rectangle for drawing.A large, empty rounded rectangle for drawing.A large, empty rounded rectangle for drawing.


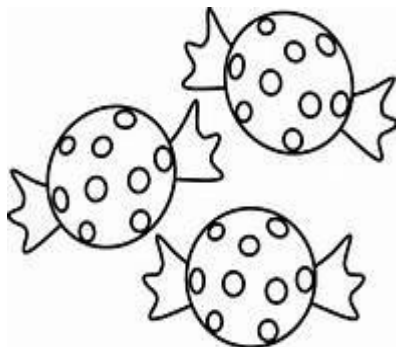
Prezri si obrázky v strednom stĺpci a spočítaj ich. Na ľavú stranu nakresli o 1 predmet VIAC  
a na pravú stranu o 1 predmet MENEJ.

**+ 1**


**SPOČÍTAJ**

**-**

**1**



Maľovanie podľa čísiel. Pozri si čísla pod obrázkom. Urči akej farby je kruh, v ktorom sa číslo nachádza. Podľa týchto farieb vyfarbi obrázok.



**1**

**2**

**3**

**4**


**5**

**6**

# KOLKO ICH JE ?

Spočítaj a zaznač bodkami, alebo zapíš číslo pod akvárium - ak to vieš.

---



# LOGIKA

Pokračuj kresbou v danej postupnosti a vytváraj koberec.

